

**Муниципальное общеобразовательное учреждение
Шурскольская средняя общеобразовательная школа**

Разработка районной олимпиады

Ломоносов XXI век

Предмет: история

Класс: 5

Фамилия, имя, отчество: Никулина Ирина Михайловна

Должность: учитель истории и обществознания

Дата проведения: 22.04.2017

*История — сокровищница наших деяний, свидетельница
прошлого, пример и поучение для настоящего,
предостережение для будущего.*

Сервантес

Раздел I. Первобытность

1. По какому принципу образованы ряды (3 балла)
 - а) синантроп, кроманьонец, испанец, неандерталец
 - б) охота, ремесло, рыболовство, собирательство
 - в) мамонт, шерстистый носорог, жираф, саблезубый тигр

Ответ:

1. названия первобытных людей
2. Занятия первобытных людей
3. животные периода оледенения

2. Решите задачи (3 балла)

1. 88 тыс. лет до н. э. в пещере Альтамира жили древние люди, а в 1880 г испанский археолог нашёл в ней пещерную живопись. Сколько лет прошло между этими событиями? Напишите свои вычисления.

2. пирамида Хеопса была построена в 2600 г. до н.э. сколько лет до наших дней (2017 года) прошло с этого события. Напишите свои вычисления

3. В 1985 году были найдены останки двух захоронений, которые пролежали в земле 784 года - первое и 920 лет второе. Какое из них было сделано раньше и насколько лет?

Ответ: 1. 89 880 лет 2. 4617 лет 3. второе захоронение было сделано раньше на 136 лет.

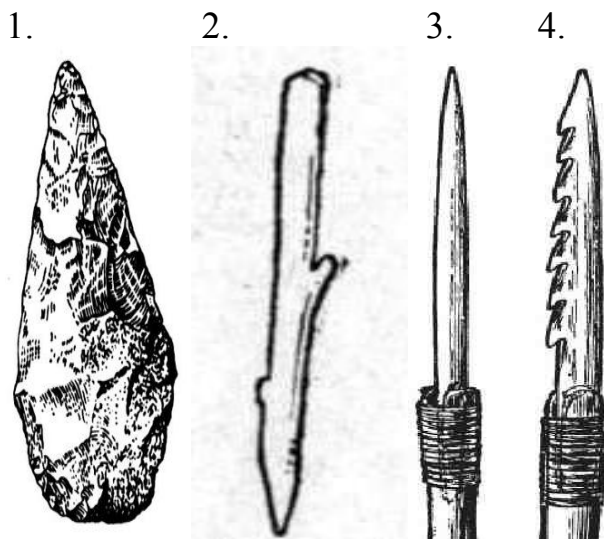
3. **Вставь пропущенные слова в предложения: (1 балл - 0,25 за 1 ответ)**

Люди жили на земле более _____1_____ лет назад. Жили люди не в одиночку, а _____2_____. Приблизительно 40 тысяч лет назад человек стал таким же, как люди нашего времени, ученые называют его _____3_____. Появившиеся у первобытных людей верования - в колдовство, в душу, жизнь после смерти – называют _____4_____.

Ответ:

1. Более двух миллионов лет назад,
2. группами,
3. человеком разумным,
4. религиозными.

4. Напишите название изображенных орудий труда первобытных людей.
(1 балл- 0,25 за 1 ответ)



Ответы:

1. рубило
2. палка-копалка
3. копье
4. гарпун

5. Вставьте пропущенное слово. (5 баллов)

1. 14 миллионов лет назад появились первые представители гоминид – _____ питающиеся _____ пищей.

2. 3,5–1,0 миллион лет назад на Африканском континенте обитали...: прямоходящие существа ростом _____ см, использующие природные материалы и ресурсы для удовлетворения своих потребностей.

3. Человек _____ впервые научился изготавливать каменные _____, свободно ходил на двух ногах и имел более развитые _____ конечности.

4. 1,0 миллион – 300 тысяч лет назад появились представители... людей, составляющие вид Человек _____, основными занятиями которых были: коллективная _____, изготовление каменных орудий и сбор _____ пищи.

Ответ:


1. Рамапитеки, растительной. (1 балл)
2. Австралопитеки, 120–130 см. (1 балл)
3. Умелый, орудия, передние. (1 балл)
4. Древнейших, прямоходящий, охота, растительной. (2 балла)

Раздел II. ДРЕВНИЙ ВОСТОК

6. Каждая из иллюстраций, приведенная ниже, относится к одной из указанных в перечне тем. Установите соответствие между темами и иллюстрациями: к каждой теме, обозначенной буквой, подберите по одной иллюстрации, обозначенной цифрой.

А. Шумерские города-государства
В. Древний Египет

Б. Древняя Индия
Г. Древняя Греция



Запишите в таблицу выбранные цифры под соответствующими буквами
Ответ:

А	Б	В	Г

Ответ: 3214

2 6

7. Прочитайте отрывок из легенды и определите, к какой из данных тем он относится. В ответе напишите букву, которой обозначена эта тема.

А. Шумерские города-государства
В. Древний Египет

Б. Древняя Индия
Г. Древняя Греция

« У царя этого племени родился первенец, которому дали имя Гаутама. На седьмой день после рождения сына умерла его мать. Отец решил

посвятить свою жизнь сыну. Он приказал огородить дом высокой стеной, чтобы ничто не могло смутить юную душу. В ворота пропускали только красивых и хорошо одетых людей. Прожив 29 лет, став мужем и отцом, Гаутама ни разу не выходил за ворота и наивно полагал, что всюду живут также беззаботно, как он. Но однажды он встретил дряхлого старца и понял, что старость неизбежна. Встретил больного и понял, что не вечно будет здоров. Он задумался о смерти и решил стать отшельником. И однажды, когда он сидел под огромным деревом, скрестив ноги, предаваясь глубокому размышлению, он обрел мудрость»

Ответ: _____

Ответ: Б 1 б

8. Прочитайте список событий (явлений, процессов) и напишите событие (явление, процесс), который относится к Древнему Египту.

Список событий:

- Строительство пирамиды фараона Хеопса
- Изгнания Тарквиния Гордого
- Строительство городов из глины,
- Существование кастовой системы
- Деятельность правителя Дария I
- Марафонская битва.

Ответ: _____ 1 б

Ответ: Строительство пирамиды фараона Хеопса

9. Прочитайте отрывок из исторического источника и ответьте на вопросы:

...Воистину: люди зажиточные поставлены к работе над ручными мельницами. Те, которые были одеты в тонкое полотно, избиваются палками... Воистину: вскрыты архивы. Расхищены податные декларации. Рабы стали владельцами рабов. Воистину: чиновники убиты... Зерно Египта стало общим достоянием. Воистину: свитки законов судебной палаты выброшены, по ним ходят на перекрестках. Бедные люди сламывают их печати на улицах... Бедные люди выходят и входят в великие дворцы. Воистину: дети вельмож выгнаны на улицу. (Речение Ипусера.)

1. Какое событие здесь описано?

2. Какое настроение передает этот текст?

3. К какой группе населения принадлежит Ипусер?


Ответ:

1. Предполагается, что в этом папирусе описаны последствия одного из народных волнений эпохи Среднего царства в Древнем Египте (ок. 1750 г. до н.э.)
2. Настроение ужаса, горечи...
3. Считается, что Ипусер (в других редакциях Ипувер) был вельможей или чиновником высокого ранга.

10. Соотнесите имена богов Древнего Египта с их изображениями и иероглифами, обозначающие их. Ответ (букву и цифру) внесите в таблицу. (1балл за правильный ответ, максимальный балл – 5).

А. Осирис Б. Гор В. Сет Г. Тот Д. Исида

Изображения богов:



Ответ:

1	2	3	4	5
Б	В	Г	А	Д

11. **Завоевания египетских фараонов.** Заполните пропуски в тексте, поставив номера слов, имен и названий, приведенных ниже (слова и названия даны в именительном падеже) в таблицу в соответствии с буквенным обозначением пропуска. Обратите внимание, что слов, имен и названий больше, чем пропусков в тексте. (0,25 балла за правильный ответ, максимальный балл – 3).

К середине II тысячелетия до н.э. египтяне достигли больших успехов в сельском хозяйстве. Был изобретён ___А___, облегчавший подъём воды в

сады и на поля. Ремесленники научились сплавлять медь и олово для получения ____Б____. Применение орудий труда из этого металла способствовало повышению производительности труда. Новой столицей египетского царства в этот период стал город ____В____. Главную силу войска египтян составляла ____Г____, набранная из ____Д____. Были созданы отряды, сражавшиеся на двухколёсных повозках - ____Е____. Около 1500 года до н.э. фараон ____Ж____ двинул свои войска в ____З____. В результате этих походов фараонам удалось захватить ____И____, ____К____, ____Л____.

- 1) Тутмос III
- 2) Передняя Азия
- 3) Палестина
- 4) Фивы
- 5) Сирия
- 6) Финикия

- 7) колесницы
- 8) пехота
- 9) Мемфис
- 10) Шадуф
- 11) крестьяне
- 12) бронза

Ответ:

А	Б	В	Г	Д	Е	Ж	З	И	К	Л
10	12	4	8	11	7	1	2	3	5	6

РАЗДЕЛ III. ДРЕВНЯЯ ГРЕЦИЯ

12. Установите соответствие между Богами Древней Греции и сферой их деятельности

СФЕРФА ДЕЯТЕЛЬНОСТИ	ГРЕЧЕСКИЕ БОГИ
1. Богиня красоты и любви	—) Зевс
2. Богиня – воительница	—) Аид
3. Бог грома и молний	—) Афина
4. Бог подземного царства	—) Афродита
5. Бог морей и океанов	

Ответ:

А	Б	В	Г

Ответ: 3421 2 б (0.5 за 1)

13. В каком году были первые Олимпийские игры?

А) 567году до н.э.;

б) 776г до н. э.;

в) 1867г.

Ответ: б (1 балл)

14. Назовите имя победителя Олимпийских игр, который одной рукой удерживал за колесо колесницу, запряжённую четвёркой лошадей.

Ответ: Полидам (1 балл)

15. Чего нельзя было делать во время проведения Олимпийских игр?

а) Торговать;

б) воевать на территории Греции и в колониях;

в) проводить какие – либо другие увеселительные мероприятия.

Ответ: Б (1 балл)

16. Заполните пустые ячейки таблицы, используя представленные в приведенном ниже списке данные. Для каждой ячейки, обозначенной буквами, выберите номер нужного элемента.

События	Дата	Участник(-и)
Марафонская битва	_____ (А)	Дарий Первый, Мильтиад
Поход в Азию	334 – 325 г. до н.э.	_____ (Б)
_____ (В)	218 - 201 гг. до н.э.	Ганнибал, Сципион Африканский
Крупнейшее восстание рабов в Италии	_____ (Г)	Спартак

Пропущенные элементы:

- 1) 490 года до н.э.
- 2) Александр Македонский
- 3) Вторая война Рима с Карфагеном
- 4) Гай Юлий Цезарь
- 5) 74 – 71 г. до н.э.
- 6) 753 год до н.э.
- 7) Троянская война

Ответ:

А	Б	В	Г

Ответ: 1235 2 б (0.5 за 1)


17. При захвате фригийского города Гордион произошел знаменитый инцидент с гордиевым узлом. Согласно легенде, царь Фригии прикрепил ярмо к дышлу колесницы чрезвычайно запутанным узлом. По преданию, сумевший развязать этот узел должен был стать властелином Азии. Александр Македонский не стал распутывать узел, а разрубил его мечом. С тех пор выражение «разрубить гордиев узел» стало означать: решить какое-либо сложное дело с помощью силы.

Однако остаётся темное место – кто же такой или что такое гордий?

Ответ: Гордий – имя собственное. Был в древности такой крестьянин с прелюбопытной судьбой. (2 балла) Дело было так. Осталось однажды фригийское царство без самодержца. И безутешные фригийцы, не зная, кого бы выбрать на эту должность, обратились за помощью к оракулу. Он посоветовал им выйти на дорогу, дожидаться первого встречного и посадить его на царствование. Оракул, видно, над фригийцами подшутил, а они приняли его слова всерьез и упросили стать царем случайно подвернувшегося под руку крестьянина Гордия. Тот тащился на базар на своей телеге. Позже Гордий поставил телегу, которая помогла ему выбиться в цари, в храм Зевса и всю жизнь молился на нее. Однако к старости Гордию показалось, что он мало внимания уделяет телеге, и он решил оставить память о ней в веках. Взял и привязал дышло таким мудреным узлом, что никто не мог развязать его. Да еще и заявил, что тот, кто развяжет узел, станет властелином всей Азии. Этот-то узел Александр Македонский, недолго думая, и полоснул мечом. И стал властелином Азии.

18. Найдите соответствия. Образец записи: 1АБ

1. 	А. Демокрит	А. «Отец истории»
2. 	Б. Гиппократ	Б. Разделил знания на науки
3. 	В. Аристотель	В. Все тела состоят из множество мельчайших неделимых частиц - атомов
4. 	Г. Геродот Галикарнасский	Г. Древнегреческий философ, математик и мистик, создатель религиозно-философской школы
5.	Д. Пифагор Самосский	Д. Знаменитый врач,

		ОСНОВОПОЛОЖНИК АНТИЧНОЙ МЕДИЦИНЫ
--	--	---

Ответы: 1ВБ, 2АВ, 3ГА, 4ДГ, 5БД (5 баллов)

Раздел IV. ДРЕВНИЙ РИМ

18. Прочтите стихотворение и укажите век, к которому относятся описанные события.

«Ромул и Рем взошли на гору,
Холм перед ними был дик и нем.
Ромул сказал: „Здесь будет город”.
„Город, как солнце”, – ответил Рем.
Ромул сказал: „Волей созвездий
Мы обрели наш древний почёт”.
Рем отвечал: „Что было прежде,
Надо забыть, глянем вперёд”.
„Здесь будет цирк, – промолвил Ромул, –
Здесь будет дом наш, открытый всем”.
„Но надо поставить ближе к дому
Могильные склепы” – ответил Рем».

1) IX в. до н.э. 2) VIII в. до н.э. 3) VII в. до н.э. 4) VI в. до н.э.

Ответ: 2 (1 балл)

19. Ниже приведён перечень терминов. Все они, за исключением одного, обозначают названия племён, населявших в древности Аппенинский полуостров.

1) апулы; 2) этруски; 3) умбры; 4) самниты; 5) дорийцы.

Найдите и запишите порядковый номер термина, «выпадающего» из данного ряда.

Ответ: 5 (1 балл)

20. Рассмотрите изображение



На иллюстрации представлено изображение

- 1) консула
- 2) народного трибуна
- 3) ликтора
- 4) гладиатора

Ответ: 3 (1 балл)

21. Установите соответствие между крылатыми фразами (устойчивыми выражениями) и годами, когда произошли связанные с ними события: к каждому элементу первого столбца подберите соответствующий элемент из второго столбца.

КРЫЛАТЫЕ ФРАЗЫ

- А) «гуси Рим спасли»
- Б) «перейти Рубикон»
- В) «Пиррова победа»

ГОДА

- 1) 390 г. до н.э.
- 2) 279 г. до н.э.
- 3) 146 г. до н.э.
- 4) 49 г. до н.э.

Запишите в таблицу выбранные цифры под соответствующими буквами.

А	Б	В

Ответ:

A	B	B
1	4	2

22. Познакомьтесь с фрагментом исторического труда римского историка Тита Ливия. Какую клятву дал Ганнибал своему отцу, и могли ли они ее не выполнить?

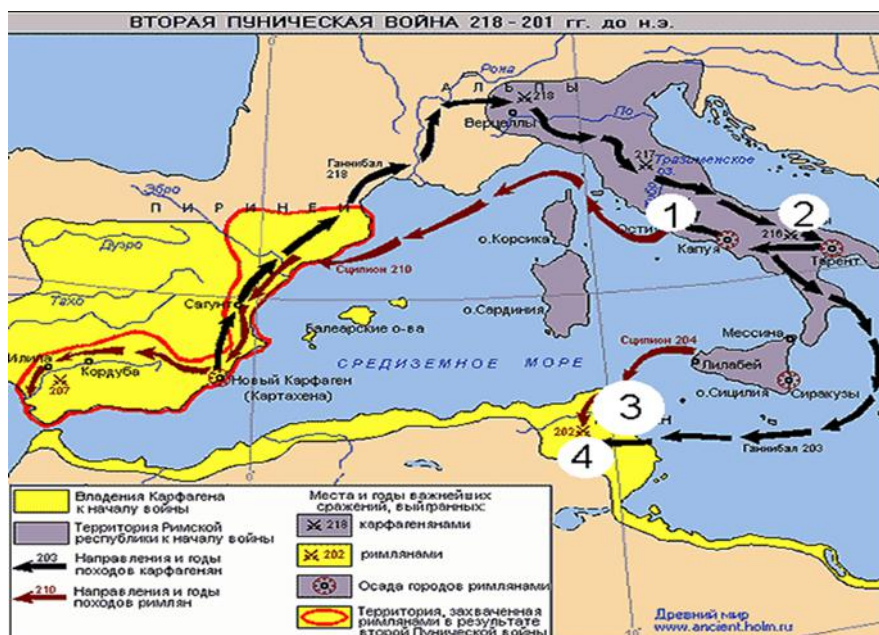
«Рассказывают, что когда отец Ганнибала, Гамилькар, окончив африканскую войну, собирался переправить войско в Испанию и приносил по этому случаю жертву богам, то его девятилетний сын Ганнибал стал просить отца взять его с собой. Тогда, говорят, Гамилькар велел ему подойти к жертвеннику и, коснувшись его рукой, произнести клятву, что он будет врагом римского народа, как только ему это позволит возраст».

Ответ: _____

Ответ: Дал клятву разрушить Рим 1 б

23. Назовите города, отмеченные на карте цифрами. Ответы занесите в таблицу:

1.	2.	3.	4.



Ответы: (2 балла 0.5 за 1 ответ)

1.	2.	3.	4.
Рим	Канны	Карфаген	Зама

