

**Муниципальное общеобразовательное учреждение  
Шурскольская средняя общеобразовательная школа**

## **Разработка районной олимпиады**

### **Ломоносов XXI век**

**Предмет: история**

**Класс: 6**

**Фамилия, имя, отчество: Никулина Ирина Михайловна**

**Должность: учитель истории и обществознания**

**Дата проведения: 22.02.2017**

*История — сокровищница наших деяний, свидетельница  
прошлого, пример и поучение для настоящего,  
предостережение для будущего.*

*М. Сервантес*

**Раздел I.**

**История Древнего мира.**

1. Каждая из иллюстраций, приведенная ниже, относится к одной из указанных в перечне тем. Установите соответствие между темами и иллюстрациями: к каждой теме, обозначенной буквой, подберите по одной иллюстрации, обозначенной цифрой.

А. Шумерские города-государства

Б. Древняя Индия

В. Древний Египет

Г. Древняя Греция



1.



2.



3.



4.

Запишите в таблицу выбранные цифры под соответствующими буквами

Ответ:

А	Б	В	Г

Ответ:3214

2 б

2. Прочитайте отрывок из легенды и определите, к какой из данных тем он относится. В ответе напишите букву, которой обозначена эта тема.

А. Шумерские города-государства  
В. Древний Египет

Б. Древняя Индия  
Г. Древняя Греция

« У царя этого племени родился первенец, которому дали имя Гаутама. На седьмой день после рождения сына умерла его мать. Отец решил посвятить свою жизнь сыну. Он приказал огородить дом высокой стеной, чтобы ничто не могло смутить юную душу. В ворота пропускали только красивых и хорошо одетых людей. Прожив 29 лет, став мужем и отцом, Гаутама ни разу не выходил за ворота и наивно полагал, что всюду живут также беззаботно, как он. Но однажды он встретил дряхлого старца и понял, что старость неизбежна. Встретил больного и понял, что не вечно будет здоров. Он задумался о смерти и решил стать отшельником. И однажды, когда он сидел под огромным деревом, скрестив ноги, предаваясь глубокому размышлению, он обрел мудрость»

Ответ: \_\_\_\_\_

Ответ: Б 1 б

3. Прочитайте список событий (явлений, процессов) и напишите событие (явление, процесс), который относится к Древнему Египту.

*Строительство пирамиды фараона Хеопса, изгнания Тарквиния Гордого, строительство городов из глины, существование кастовой системы, деятельность правителя Дария I, Марафонская битва.*

Ответ: \_\_\_\_\_ 1 б

Ответ: Строительство пирамиды фараона Хеопса

4. Установите соответствие между Богами Древней Греции и сферой их деятельности

СФЕРФА ДЕЯТЕЛЬНОСТИ	ГРЕЧЕСКИЕ БОГИ
1. Богиня красоты и любви	—) Зевс
2. Богиня – воительница	—) Аид
3. Бог грома и молний	—) Афина
4. Бог подземного царства	—) Афродита
5. Бог морей и океанов	

Ответ:

А	Б	В	Г

Ответ: 3421 2 б (0.5 за 1)

5. Заполните пустые ячейки таблицы, используя представленные в приведенном ниже списке данные. Для каждой ячейки, обозначенной буквами, выберите номер нужного элемента.

События	Дата	Участник(-и)
Марафонская битва	_____ (А)	Дарий Первый, Мильтиад
Поход в Азию	334 – 325 г. до н.э.	_____ (Б)
_____ (В)	218 - 201 гг. до н.э.	Ганнибал, Сципион Африканский
Крупнейшее восстание рабов в Италии	_____ (Г)	Спартак

Пропущенные элементы:

- 1) 490 года до н.э.
- 2) Александр Македонский
- 3) Вторая война Рима с Карфагеном
- 4) Гай Юлий Цезарь
- 5) 74 – 71 г. до н.э.
- 6) 753 год до н.э.
- 7) Троянская война

Ответ:

А	Б	В	Г

Ответ: 1235 2 б (0.5 за 1)

6. Познакомьтесь с фрагментом исторического труда римского историка Тита Ливия. Какую клятву дал Ганнибал своему отцу, и мог ли он ее не выполнить?

*«Рассказывают, что когда отец Ганнибала, Гамилькар, окончив африканскую войну, собирался переправить войско в Испанию и приносил по этому случаю жертву богам, то его девятилетний сын Ганнибал стал просить отца взять его с собой. Тогда, говорят, Гамилькар велел ему подойти к жертвеннику и, коснувшись его рукой, произнести клятву, что он будет врагом римского народа, как только ему это позволит возраст».*

Ответ: \_\_\_\_\_

Ответ: Дал клятву разрушить Рим 1 б

## Раздел II. История средневековья.

1. Говорят, что успешной обороне Константинополя от арабов в 677 году, способствовало какое-то замечательное военное изобретение. Что это могло быть?

Ответ: \_\_\_\_\_ 1 б

Ответ: Во время осады 612\_678-х гг, видимо, впервые применили греческий огонь ( смесь нефти, смолы и серы с селитрой). Сейчас такая смесь называется порохом.

2. Перечислите шесть крупнейших городов Европы в X веке.

Ответ: \_\_\_\_\_ 1 б

Ответ: Константинополь, Фессалоники, Адрианополь, Кордова, Гранада, Барселона.

3. Как могли сохраниться Крест и Гроб Иисуса Христа до XI века?

Ответ: \_\_\_\_\_ 1 б

Ответ: Крест и Гроб Христа были найдены в 19 веке, когда император Константин организовал на Голгофе археологические раскопки. После этого они хранились в специально построенном храме в Иерусалиме, а гвозди от распятия в Константинополе.

4. Чем отличался первый крестовый поход от похода Александра Македонского против Персии?

Ответ: \_\_\_\_\_ 1 б


Ответ: самое главное отличие заключается в том, что Александр Македонский вел единую греческую армию против единой персидской армии, а крестоносцы вели сброд феодалов Европы против разрозненных феодалов-сельджуков.




5. Почему первая европейская революция Средних веков произошла в Германской империи, а не в Англии, не во Франции и не в Испании?

Ответ: \_\_\_\_\_ 1 б

Ответ: Революции обычно происходят там, где наиболее резкие противоречия между экономическим прогрессом и отсталыми общественными отношениями. В XV веке такие условия сложились именно в Германской империи.

7. Найдите соответствия. Образец записи: 1АБ




1		А. Пизанская башня	А. Россия, Владимир, 1158-1160 г.г.
---	---	--------------------	-------------------------------------

<p>2</p> 	<p>Б. Успенский собор</p>	<p>Б. Италия, 1173 г.</p>
<p>3</p> 	<p>В. Преображенская церковь</p>	<p>В. Франция, Реймс, 1211-1420 гг.</p>
<p>4</p> 	<p>Г. Собор Нотр-Дам</p>	<p>Г. Россия, Карелия, Кижы, 16-17 в.в.</p>

**Ответ: 1Вг, 2Гв, 3Ба, 4Аб**

2 б (о.5 за 1)

**Найдите соответствия. Образец записи: 1АБ**

1		А Собор Святой Софии	А. Россия, Коломенское, 1532 г.
2		Б Кёльнский собор	Б. Франция, Париж, 12-14 века
3		В Церковь Вознесения	В. Германия, 13-19 века
4		Г Собор Нотр-Дам	Г. Россия, Новгород, 11 век

Ответ: 1Гб, 2Ва, 3Аг, 4Бв

### 8. Узнай великого художника.

Биограф итальянских художников Возрождения Джорджио Вазари следующим образом характеризовал трех величайших мастеров:

1) "Он показал путь к главной задаче искусства, каковой является человеческое тело, и, обращая внимание только на нее, оставляя в стороне игру красок..."

2) "Он всех побеждал своей приветливостью и искусством, но больше всего гением своей натуры..."

3) "Дарование его было так велико, что при создании любых трудных предметов, к которым обращалась его пытливость, он легко и совершенно находил решения... Он ежедневно делал модели и чертежи..."

Ответ: \_\_\_\_\_

Ответ: 1 б

а) Рафаэль;

б) Леонардо да Винчи;

в) Микеланджело.

### Раздел III.

#### Русь с древнейших времен до XII века

1. Рассмотрите иллюстрации и ознакомьтесь с текстом. Выберите правильный ответ.



Скифский царь в 90 лет погибший на поле битвы в схватке с воинами Филиппа Македонского:

А.



Скил

Б.



Митридат VI

В.



Атей

Ответ: \_\_\_\_\_

Ответ: в) Атей 1 б

## 2. Вставьте пропущенное слово:

Во II – I тыс. до н.э. предки славян (праславяне), расселившись в среднем Поднепровье подверглись впервые нашествию кочевых племён \_\_\_\_\_

Ответ: \_\_\_\_\_

**Ответ:** Первые нашествия **киммерийцев**. Уже в это время праславяне вступили в противоборство с кочевыми племенами. Это были киммерийцы, занявшие степные пространства Северного Причерноморья и атаковавшие расселившихся в Поднепровье предков восточных славян. Славяне на их пути насыпали высокие валы, перегораживали лесные дороги завалами и рвами, строили укрепленные городища. И все-таки силы мирных пахарей, скотоводов и конных воинов-кочевников были неравны. Под натиском опасных соседей многие праславяне покидали плодородные солнечные земли и уходили в северные леса.



3. Болгарский хан Аспарух основал:

а) Волжскую Болгарию

б) Хазарию

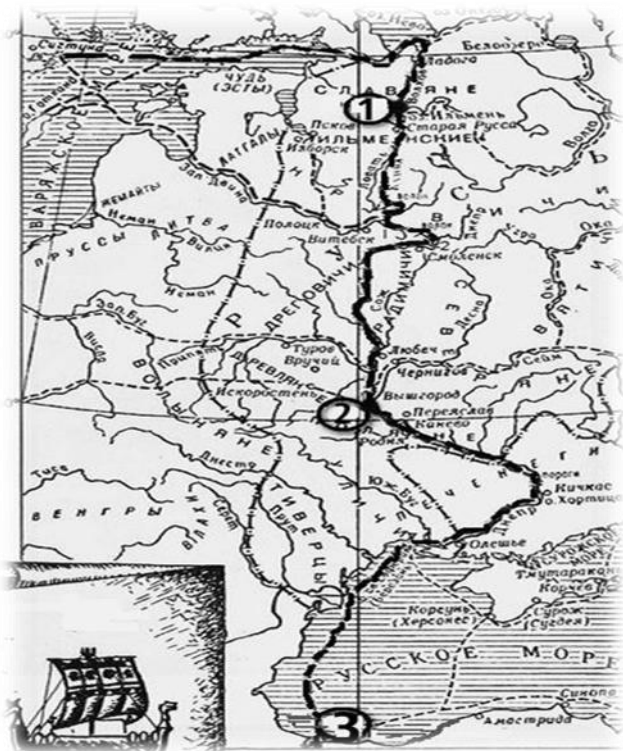
в) Дунайскую Болгарию

Ответ: \_\_\_\_\_ 1 б

Ответ: **в-** Аспарух — правитель болгар из династии Дуло.

Основатель первого болгарского государства на Дунае

4. Рассмотрите схему и выполните задание.



1. Напишите, как называется отмеченный путь на карте?

Ответ: \_\_\_\_\_

Ответ: Путь из Варяг в греки

2. Напишите имя князя, который установил контроль над этим торговым путем?

Ответ: \_\_\_\_\_

Ответ: Олег ( регент при сыне Рюрика Игоре)

3. Напишите цифру, обозначающий город, который называли на Руси Царьград?

Ответ: \_\_\_\_\_

Ответ: 3

1 – Новгород, 2 – Киев, 3 – Царьград ( Константинополь)

3 б

5. Княгиня Ольга то ли в 955 г., то ли в 957 г. отправляется в Константинополь. Для чего? Не воевать, как это было ранее. «Креститься», — утверждает «Повесть временных лет» и большинство историков. Но зачем для крещения надо было совершать столь небезопасное путешествие? Ведь можно было креститься и в Киеве, благо в источниках уже упоминается наличие в нем соборной церкви святого Ильи. Да и византийские священники охотно откликнулись бы на просьбу Ольги и сами пришли бы на Русь.

**И потом, если бы Ольга прибыла в Константинополь только для крещения, стали бы держать русское посольство в бухте около двух с половиной месяцев?**

Ответ: \_\_\_\_\_

Ответ: 1 б

Наиболее интересна гипотеза А.Н. Сахарова. Целью визита Ольги являлась попытка установления династического брака: она хотела женить Святослава, которому было 15 — 17 лет на дочери Константина VII Феодоре. Предполагается, что Святослав даже был в составе делегации. Византийцы долго обдумывали предложение северных соседей (или делали вид), затем вежливо отклонили его. Ольга убыла обиженной и оскорбленной. Святослав после этого все силы направил на борьбу с Византийской империей.

6. Запишите имя, пропущенное в схеме.



Ответ: \_\_\_\_\_ 1 б

Ответ: Владимир

7. «Русы садились на землю, снимали обувь и входили в воду. Многие это делали с недовольным видом. Они не понимали, что происходит с ними, но не осмеливались нарушить волю князя. Женщины дико завопили, когда тяжко рухнул и колодкой покатился с горы огромный Перун. Чтобы лишний раз доказать народу бессилие старых богов, по велению князя истукана привязали к хвостам диких коней, и они умчали его далеко в поле»

1. О чем свидетельствует данный отрывок?

2. Назовите год в котором произошло данное событие?

Ответ: \_\_\_\_\_ 1 б

Ответ: 988 год. Крещение Руси. (Киевлян)

8. Расставьте отрывки «Повести Временных Лет» в хронологической последовательности:

1. ...После всего этого Владимир вернулся в Киев. И когда пришел, повелел опрокинуть идолов. Когда влекли Перуна по Ручью к Днепру,

оплакивали его неверные, так как не приняли они еще святого крещения.

2. ...И повелел крестить себя... Многие из дружинников, увидев это, крестились...
3. В год 6495 (987) созвал Владимир бояр своих и старейшин градских и сказал им: «Вот приходили ко мне болгары, говоря: «Прими закон наш». Затем приходили немцы и хвалили закон свой. За ними пришли евреи. После же всех пришли греки, браня все законы, а свой восхваляя, и многое говорили, рассказывая от начала мира, о бытии всего мира...»
4. ...«Вот взял уже ваш город славный; слышал же, что имеете сестру девицу; если не отдадите ее за меня, то сделаю столице вашей то же, что и этому городу». И, услышав это, опечалились цари, и послали ему весть такую: «Не пристало христианам выдавать жен за язычников. Если крестишься, то и ее получишь, и царство небесное, и нами единовен будешь...»
5. ...Они же сказали: «Ходили в Болгарию, смотрели, как они молятся в храме, то есть в мечети, стоят там без пояса; сделав поклон, сядет и глядит туда-сюда, как безумный, и нет в них веселья, только печаль и смрад великий. Не добр закон их. И пришли мы к немцам и видели в храмах их различную службу, но красоты не видели никакой. И пришли мы в Греческую землю, и ввели нас туда, где служат они Богу своему, и не знали - на небе или на земле мы...»
6. . . .И сказали бояре и старцы: «Знай, князь, что никто не бранит, но хвалит. Если хочешь в самом деле разузнать, то ведь имеешь у себя мужей: послав их, разузнай, какая у них служба и кто как служит Богу»...
7. ...И поставил церковь во имя святого Василия на холме, где стоял идол Перуна и другие и где творили им требы князь и люди. И по другим городам стали ставить церкви и определять в них попов и приводить людей на крещение по всем городам и селам...
8. ...И спросил Владимир: «Где примем крещение?» Они же сказали: «Где тебе любо». И когда прошел год, в 6496 (988) году пошел Владимир с войском на Корсунь, город греческий, и затворились корсуняне в городе...

*Ответ:* \_\_\_\_\_

Ответ: 3,6, 5, 8, 4, 2, 1, 7. 2 б (о.25 за 1)

9. После крещения киевлян летом 988 года великий князь Владимир вместе с сыновьями и первым митрополитом Киевским Михаилом объезжали русские города, ревностно распространяя христианство. В Чернигов, Белгород, Переяславль, Новгород, Владимир Волынский были поставлены епископы. В 990 году митрополит Михаил посвятил в сан епископа сопровождавшего его святителя Феодора и назначил его на новоустроенную кафедру в Ростове Великом.

*В каком году произошло крещение Ростовской земли?*

1. 989 год
2. 988 год
3. 992 год
4. 990 год

*Ответ:* \_\_\_\_\_ 1 б

Ответ: 30 сентября/13 октября 992 год Святитель Феодор

### 10. Рассмотрите иллюстрации и выполните задания.



1. Кто изображен на картинке и какую роль он сыграл для Ярославля?
2. Назовите официальную дату основания и название города изображенного на

*иллюстрации?*

*Ответ:* \_\_\_\_\_

1 б

Ответ: Ярослав Мудрый (Владимирович), является по летописи «Повести временных лет» основателем города Ярославля. Согласно официальной версии город был основан в период ростовского княжения Ярослава. 1010 год – последний год пребывания Ярослава Владимировича в Ростове, представляется наиболее вероятным. Ярославль.

### 11. Рассмотрите иллюстрацию и выполните задание:

1. Когда состоялся и какие решения принял Любечский съезд князей?

2. Назовите имя князя возглавившего съезд изображенного на иллюстрации?

Ответ: \_\_\_\_\_

Ответ: Борьба Ярославичей за власть ослабляла обороноспособность государства. Стремясь урегулировать между собой отношения, по инициативе Мономаха князья собрались на Любечском съезде в 1097 г. Который изменил порядок управления страной. «А половцы землю нашу раздирают на клочья и радуются тому, что мы войны ведем меж собой. Объединимся отныне единым сердцем и будем беречь и почитать землю русскую». Участники любечского съезда договорились, кому какой «отчиной» владеть. Съехались шесть князей во главе со Святополком Изяславичем.



1 б

## 12. Прочитайте отрывок, выполните задание.

«Я, недостойный, дедом своим Ярославом, благословенным, славным, нареченный в крещении Василием, русским именем Владимир, отцом возлюбленный и матерью своею из рода Мономахов... и христианских ради людей, ибо сколько их соблюл по милости своей и по отцовской молитве от всех бед! Сидя на санях, помыслил я в душе своей и воздал хвалу Богу, который меня до этих дней, грешного, сохранил. Дети мои или иной кто, слушая эту грамотку, не посмейтесь, но кому из детей моих она будет любя, пусть примет ее в сердце свое и не станет лениться, а будет трудиться.»

1. Кто является автором этих слов?

2. Кому посвящено «Поучение»?

Ответ: \_\_\_\_\_ 1 б

Ответ: 1. автором «грамотки» был князь В. Мономах

2. Детям(сыновьям) всем людям (или иной кто)

## 13. Рассмотрите иллюстрацию и выполните задания.

Укажите названия города и год постройки архитектурных памятников представленные ниже?

1.	
----	--





2.



3.



Ответ: 2 б (о.5 за 1)

1.

Десятинная церковь. Первая каменная церковь Древнерусского государства, воздвигнутая Владимиром Святославичем. 996 год в Киеве



2.



Золотые ворота в Киеве. Один из немногих памятников оборонного зодчества Древнерусского государства (Киевской Руси) периода правления князя Ярослава Мудрого. 1026 г.

3.



Софийский собор в Новгороде  
Главный православный храм  
Великого Новгорода, созданный в  
1045-1050 годах, кафедральный  
собор Новгородской митрополии.



## **Список литературы и источников.**

«Повесть временных лет» Нестор.

Поучения Владимира Мономаха Перевод Д. С. Лихачева

Лернер И.Я. Задачник по истории отечества: 6-7кл.Пособие для учителя./М.:

Аквариум,1997.

Интернет источник:

<http://hiztory.ru/rus/poyavlenie-slavyan.html>

<http://www.moi-jaroslavl.ru/letopis-jar.html> (картинка Ярослава Мудрого)

[https://yandex.ru/images/search?img\\_url=http%3A%2F%2Fwww.zdravrussia.ru%2Fimages%2Ffoto\\_isk%2Ffool%2F11757.jpg&text=%D0%BB%D1%8E%D0%B1%D0%B5%D1%87%D1%81%D0%BA%D0%B8%D0%B9%20%D1%81%D1%8A%D0%B5%D0%B7%D0%B4&noreask=1&pos=2&lr=213&rpt=simage](https://yandex.ru/images/search?img_url=http%3A%2F%2Fwww.zdravrussia.ru%2Fimages%2Ffoto_isk%2Ffool%2F11757.jpg&text=%D0%BB%D1%8E%D0%B1%D0%B5%D1%87%D1%81%D0%BA%D0%B8%D0%B9%20%D1%81%D1%8A%D0%B5%D0%B7%D0%B4&noreask=1&pos=2&lr=213&rpt=simage) (картинка Любечиский съезд)