

Муниципальное общеобразовательное учреждение  
Шурскольская средняя общеобразовательная школа

# **Разработка районной олимпиады**

## **Ломоносов XXI век**

**Предмет:** история

**Класс:** 9

**Фамилия, имя, отчество:** Никулина Ирина Михайловна

**Должность:** учитель истории и обществознания

**Дата проведения:** 24.12-25.12.2016

*«История — сокровищница наших деяний, свидетельница прошлого, пример и поучение для настоящего, предостережение для будущего»*

*М. Сааведра*

## **Раздел I. Древняя Русь**

1. После крещения киевлян летом 988 года великий князь Владимир вместе с сыновьями и первым митрополитом Киевским Михаилом объезжали русские города, ревностно распространяя христианство. В Чернигов, Белгород, Переяславль, Новгород, Владимир Волынский были поставлены епископы. В 990 году митрополит Михаил посвятил в сан епископа сопровождавшего его святителя Феодора и назначил его на новоустроенную кафедру в Ростове Великом.

*В каком году произошло крещение Ростовской земли?*

1. 989 год
2. 988 год
3. 992 год
4. 990 год

*Ответ:* \_\_\_\_\_

Ответ: 30 сентября/13 октября 992 год Святитель Феодор

### **2. Рассмотрите иллюстрацию и прочитайте текст. Выполните задание.**

Есть известие Никоновской летописи под 991 годом:  
«...После Новгорода святитель Михаил посетил в 991 году с христианской проповедью область Ростовскую, сопровождаемый четырьмя епископами, а также родственником [князя] Владимира — Добрынею и священником Анастасием. Ревностные благовестники крестили здесь множество людей, воздвигли многие храмы, рукоположили пресвитеров и диаконов и устроили клир. В 992 году в Ростов поставлен был и особый епископ; с этого времени возникла здесь епархия, в которую вошла вся область Ростовская...»

*1. Кто изображен?*

*2. О каком событии идет речь в предлагаемом тексте?*

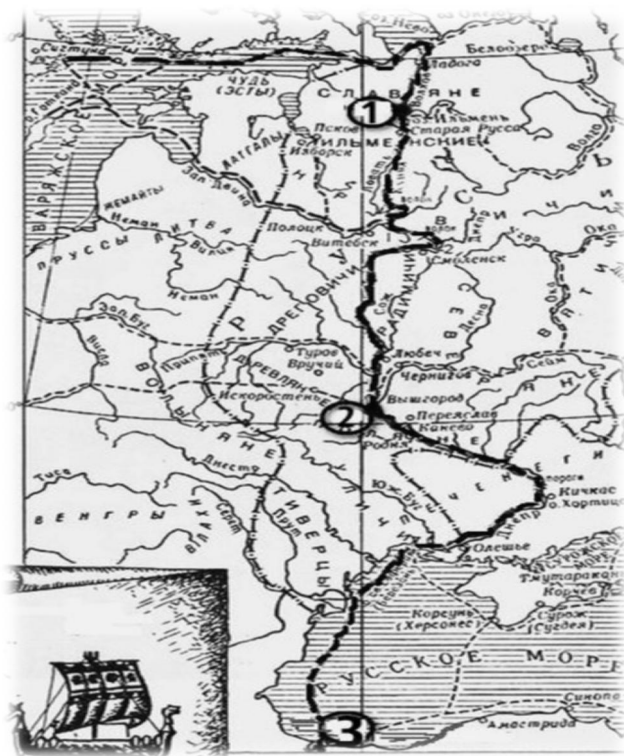
*Ответ:* \_\_\_\_\_

Ответ: \_\_\_\_\_

Ответ: Святитель Феодор, епископ Суздальский, был родом из Греции. Он прибыл в Киевскую Русь из Константинополя в свите духовных лиц, сопровождавших святителя Михаила, митрополита Киевского (992; память 30 сентября/13 октября), который крестил великого князя Владимира в 987 году в Корсуни. В предлагаемом тексте речь идет о назначении 990 году митрополитом Михаилом в сан епископа Феодора и назначив его на новоустроенную кафедру в Ростове Великом.



### 3. Рассмотрите схему и выполните задание.



1. Напишите, как называется отмеченный путь на карте?

Ответ: \_\_\_\_\_

Ответ: Путь из Варяг в греки

2. Напишите имя князя, который установил контроль над этим торговым путем?

Ответ: \_\_\_\_\_

Ответ: Олег ( регент при сыне Рюрика Игоре)

3. Напишите цифру, обозначающий город, который называли на Руси Царьград?

Ответ: \_\_\_\_\_

Ответ: 3

1 – Новгород, 2 – Киев, 3 – Царьград ( Константинополь)

4. В летописи «Повести временных лет» летописца Нестора, говорится о «восстании волхвов» в Ростовской земле. Восстание было вызвано голодом, и возглавили его «два волхва от Ярославля». Во главе 300 человек волхвы пошли вверх по Волге, а затем Шексне, убивая по пути «знатных жён», и дошли до Белоозера, где их отряд был разбит, а сами они казнены воеводой Яном Вышатичем.

В каком году произошло это событие?

Ответ: \_\_\_\_\_

Ответ: Согласно «Повести временных лет» в которую попадали лишь важные события в 1071 году прошли выступления и восстания волхвов и язычников в важнейших центрах Киеве и Новгороде, а также в Ростове.

## 5. Рассмотрите иллюстрацию и выполните задания.

1. Кто изображен на картинке и какую роль он сыграл для Ярославля?
2. Назовите официальную дату основания города?

Ответ: \_\_\_\_\_

Ответ: Ярослав Мудрый (Владимирович), является по летописи «Повести временных лет» основателем города Ярославля. Согласно официальной версии город был основан в период ростовского княжения Ярослава. 1010 год – последний год пребывания Ярослава Владимировича в Ростове, представляется наиболее вероятным.



## Раздел II Феодальная раздробленность на Руси

### 6. Рассмотрите иллюстрацию и выполните задание:

Когда состоялся и какие решения принял Любечский съезд князей?

Ответ: \_\_\_\_\_

Ответ: Борьба Ярославичей за власть ослабляла обороноспособность государства. Стремясь урегулировать между собой отношения, по инициативе Мономаха князья собрались на Любечском съезде в 1097 г. Который изменил порядок управления страной. «А половцы землю нашу раздирают на клочья и радуются тому, что мы войны ведем меж собой. Объединимся отныне единым сердцем и будем беречь и почитать землю русскую». Участники любечского съезда договорились, кому какой «отчиной» владеть.



### 7. Прочитайте отрывок, выполните задание.

«Я, недостойный, дедом своим Ярославом, благословенным, славным, нареченный в крещении Василием, русским именем Владимир, отцом возлюбленный и матерью своею из рода Мономахов... и христианских ради людей, ибо сколько их соблюл по милости своей и по отцовской молитве от всех бед! Сидя на санях, помыслил я в душе своей и воздал хвалу Богу, который меня до этих дней, грешного, сохранил. Дети мои или иной кто, слушая эту грамотку, не посмейтесь, но кому из детей моих она будет любя, пусть примет ее в сердце свое и не станет лениться, а будет трудиться.»

1. Кто является автором этих слов?
2. Кому посвящено «Поучение»?

Ответ: \_\_\_\_\_

- Ответ: 1. автором «грамотки» был князь В. Мономах  
2. Детям(сыновьям) всем людям (или иной кто)

**8. Вставьте пропущенные в тексте имя князя, дату, название народа, напавшего на русские земли, название города, название реки, имена русских воинов, прозвище князя.**

\_\_\_\_\_ прославился двумя блистательными победами над врагами западными.

В году \_\_\_\_\_, воспользовавшись ослаблением Руси, \_\_\_\_\_ под предводительством герцога Биргера попытались захватить \_\_\_\_\_.

Они двинулись по реке \_\_\_\_\_ на судах.

\_\_\_\_\_ от разведчиков уже знал о продвижении противника.

Как только \_\_\_\_\_ пристали к берегу и начали высадку, он со своей дружиной внезапно напал на врагов. В стремительной схватке русские воины наголову разбили \_\_\_\_\_.

Отважно сражались княжеские дружинники и ополченцы. Подвиги \_\_\_\_\_ навсегда остались в русской истории. Эта победа принесла славу полководца и прозвище \_\_\_\_\_.

Ответ:

1. Александр Н.
2. Июле 1240
3. Шведский флот
4. Устье реки Невы, а также города Ладоги
5. Неве
6. Александр Невский
7. Шведы
8. Шведские войска
9. Александру
10. Невский

**9. Прочитайте отрывок и выполните задание.**

«Благодарю тебя, Боже мой. Вижу я о себе похвальную память. Молодая жизнь моя железом погибает, и тонкое тело мое увядает. Господи, прими дух мой, да и я почию в славе твоей».

*Кому принадлежат эти слова?*

*Ответ:* \_\_\_\_\_

Ответ: Ростовскому Князю Василько, умирающему на поле битвы на реке Сить.

### Раздел III. Московская Русь.

10. Известно, что при Иване III— великом князе московском, продолжалась политика объединения русских земель под властью Москвы. При нём территория увеличилась вдвое.

К Московскому княжеству были присоединены:

1. Новгородская республика – 1478г.
2. Тверское княжество – 1485г.
3. Вятская, Пермская и большая часть Рязанской земли – после 1489г.

А также Ярославское княжество и Ростовское княжество.

*Назовите даты присоединения этих княжеств к Московскому?*

*Ответ:* \_\_\_\_\_

Ответ: Ярославское княжество – 1463г.

Ростовское княжество – 1474г.

### **11. Рассмотрите иллюстрацию и ознакомьтесь с текстом. Выполните задания.**

«Когда Василий тяжело заболел, царь навещал его вместе со своей супругой — царицей Анастасией. Святому приписывают ряд чудес. Находясь в Москве, он потушил пожар в Новгороде тремя чашами вина. Василий обличал ложь, и под внешним благочестием мог угадать действия дьявола. Так, на глазах изумлённых паломников он кинул камень в образ Богоматери, который почитался как чудотворный. Когда толпа принялась избивать Василия, он закричал: «А вы поскребите грунтовку!». Удалив красочный слой, люди увидели, что под изображением Божьей матери нарисован чёрт. Василий умер в 1552 году»



1. *Назовите архитектурное сооружение изображенное на иллюстрации?*
2. *В каком городе расположен?*
3. *Дата постройки и фамилию архитектора.*
3. *Назовите события в честь которых было заложено строительство сооружения?*


*Ответ:* \_\_\_\_\_

Ответ: Расположенный на Красной площади рядом с Кремлём. Храм Василия Блаженного — это целый град в городе: на едином основании возведено 10 церквей с пёстрыми куполами. Архитектор: русские зодчие Постник и Барма Он был построен в 1555 — 1561 годах по приказу Ивана Грозного в ознаменование победы над Казанским ханством — вековым врагом Руси.

## Раздел IV Смутные времена.

### 12. Рассмотрите изображение и выполните задание.

Известны имена трёх братьев— Василия, Стефана и младшего Георгия, некрещеное имя которого было — Третьяк. В 1622 году этим людям было удостоено пожалование чином гостей города. Такая почётная привилегия была выражением признания купцов и их заслуг в Смутное время начала XVII века, пожертвовавших, в частности, немалые денежные средства на ополчение Минина и Пожарского. Этой чести удостоился еще один купец верхушке торгово-ремесленного посада и являвшегося в это время одним из крупнейших торговых домов Ярославля. Назовите фамилию изображенного купца?



Ответ: \_\_\_\_\_

Ответ: Яков Любский дарит икону Казанской Богородицы ярославскому земскому старосте и купцу Василию Лыткину.

### 13. Рассмотрите изображение и прочитайте отрывок, выполните задание.

.....следил за ходом войны и послал князю Димитрию Пожарскому свое благословение и просфору. Он велел ему идти под Москву, предсказав: "Увидите славу Божию". В помощь Пожарскому и Минину преподобный передал свой крест. С помощью Божией русские одолели Литву, князь Пожарский овладел Кремлем, и в Русской земле постепенно начал водворяться мир.



О ком идет речь в данном отрывке? Ответ поясните.

Ответ: \_\_\_\_\_

Ответ: Преподобного Иринарха, затворник Ростовский, родился в крестьянской семье в селе Кондаково Ростовского уезда. В Крещении он получил имя Илия. На 30-м году жизни святой принял постриг в монашество в Ростовском Борисоглебском монастыре.

Раздел V  
Россия в XVII столетии

14. Рассмотрите иллюстрацию и выполните задания.







*Укажите города и названия архитектурных памятников, представленные ниже, построенные в том же веке, в котором происходили события, изображённые на картине?*

1.		
2.		
3.		
4.		



Ответ:

1.		Воскресенский монастырь Новый Иерусалим. Москва
2.		Троицкая церковь во Владимире.
3.		4. Церковь Ильи Пророка — храм в центре Ярославля на Советской площади.
4.		5. Ростовский кремль. Ростов Великий.

**15. Прочитайте текст документа и определите, о каком событии идет речь?**

«Говорили на соборах о царевичах, которые служат в Московском государстве, и о великих родех, кому из них Бог даст... быть государем". Но тут-то и пришла главная смута. «Много избираючи искаху» не могли ни на ком остановиться: одни предлагали того, другие -другого, и все говорили разно, желая настоять на своей мысли. «И тако препроводиша не малые дни».

Ответ: \_\_\_\_\_

Ответ: Земский собор.1613 год. Избрание Романовых на царствование.

## Раздел VI

### Российская империя в XVIII столетии.

#### 16. Сопоставьте исторических личностей эпохи Петра с их деятельностью.

1.  Шереметев Б.П.	А. Гетман Левобережной Украины. Во время Северной войны, стремясь к отделению Украины от России, перешёл на сторону шведов, в Полтавской битве участвовал против России
2.  Апраксин Ф.М.	Б. Адмирал. Участник Азовских походов, начальник Адмиралтейского приказа, с 1723-1726 командовал Балтийским флотом.
3.  Лефорт Ф. Я.	В. Государственный и военный деятель, генералиссимус. Участник Азовских походов, Великого посольства. Руководил строительством Петербурга, участник Северной войны.
4.  Меншиков А. Д.	Г. Участник Азовских походов, возглавлял Великое посольство.
5.  Мазепа И.С.	Д. Государственный и военный деятель, участник Азовских походов, активный участник Северной войны, Прутского похода.

Ответы запишите в таблицу.

1.	2.	3.	4.	5.

Ответ:

1. Шереметев Б.П.	Государственный и военный деятель, участник Азовских походов, активный участник Северной войны, Прутского похода.
2. Апраксин Ф.М.	Адмирал. Участник Азовских походов, начальник Адмиралтейского приказа, с 1723-1726 командовал Балтийским флотом.
3. Лефорт Ф. Я.	Участник Азовских походов, возглавлял Великое посольство.
4. Меншиков А. Д.	Государственный и военный деятель, генералиссимус. Участник Азовских походов, Великого посольства. Руководил строительством Петербурга, участник Северной войны.
5. Мазепа И.С.	Гетман Левобережной Украины. Во время Северной войны, стремясь к отделению Украины от России, перешёл на сторону шведов, в Полтавской битве участвовал против России

1.	2.	3.	4.	5.
Д	Б	Г	В	А

**17. Прочтите фрагмент записок современника и напишите пропущенное в нём имя императрицы.**

«Императрица \_\_\_\_\_ объявила манифестом, что она взошла на отцовский престол, принадлежавший ей, как законной наследнице, и что она приказала арестовать похитителей ее власти. Три дня спустя был обнародован другой манифест. В нем было сказано, что так как принцесса Анна и ее супруг не имели никакого права на русский престол, то они будут отправлены со всем семейством в Германию».

Ответ: \_\_\_\_\_

Ответ: Елизавета

## Раздел VII Российская империя в XIX столетии

**18. Рассмотрите картину. Выполните задание.**

1. Какому событию посвящена картина?
2. Кто изображен?

Ответ: \_\_\_\_\_

Ответ: Картина посвящена суду 13 июня 1826 года над участниками восстания на Сенатской площади 14 декабря 1825 года. И. Пестель, С.И. Муравьев-Апостол, М.П. Бестужев, К.Ф. Рылеев и П.Г. Каховский были по приговору суда повешены.



**19. Рассмотрите схему и**



**выполните задания.**

1. Под каким названием вошла в историю война, во время которой состоялись военные действия, обозначенные на схеме стрелками?

Ответ: \_\_\_\_\_

2. Напишите имя флотоводца, под командованием которого русский Черноморский флот осуществлял поход, обозначенный на схеме, и одержал блистательную победу, разгромив турецкую эскадру.

Ответ: \_\_\_\_\_

3. Напишите название города, обозначенного на схеме, цифрой «5», где находилась главная российская военная морская база на Черном море.

Ответ: \_\_\_\_\_

Ответ: Крымская война. Адмирал Нахимов. Севастополь.

**20. Напишите пропущенное в тексте имя автора картины.**

«В том же году, в котором царской цензурой была снята с выставки картина «Сельский крестный ход на Пасхе» ..... написал небольшое полотно «Чаепитие в Мытищах» (1862). Две фигуры, два мира противостоят друг другу в этой картине: монах и инвалид-солдат. Один разжиревший от праздной жизни, другой нищий. Без ноги, слепой, с мальчиком-поводырем, инвалид просит милостыню. Перед нами, быть может, один из героев Севастопольской обороны. Ему выдали медаль за храбрость и пустили на произвол судьбы, бродить по белу-свету».

Ответ: \_\_\_\_\_

Ответ: Перов

**21. Рассмотрите схему.**

1. Назовите \_\_\_\_\_ русского императора, в годы правления которого происходили события, изображённые на схеме.

Ответ: \_\_\_\_\_

2. Укажите цифру, которой обозначено место подписания мирного договора, завершившего данную войну.

Ответ: \_\_\_\_\_

3. Укажите цифру, которой обозначена крепость Карс.

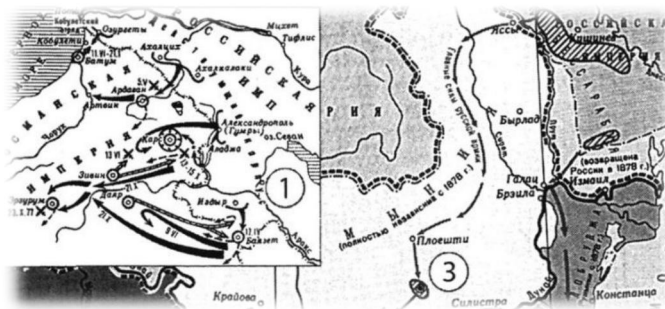
Ответ: \_\_\_\_\_

Ответ:

1. Александр 2

2. 4

3. 1



**22. Прочитайте отрывок из труда историка. Используя знания по истории, выберите из приведённого списка верное суждение. Запишите цифру, характеризующий данный отрывок.**

«Среди меньшевиков, эсеров и части большевиков преобладало мнение, что нужно поддерживать... правительство постольку, поскольку оно будет защищать и развивать завоевания революции, тем более что в составе кабинета князя Г. Е. Львова был и бывший лидер Трудовой группы IV Государственной думы, а ныне эсер, адвокат..... блестящий демагогический талант которого покорял в то время сотни тысяч людей».

1. описанные в отрывке события относятся к 1917 г.
2. правительство, о котором идёт речь, называлось СНК
3. в составе кабинета Г. Е. Львова находился А. Ф. Керенский
4. В. И. Ленин поддерживал правительство Г. Е. Львова
5. одним из «завоеваний революции» было отречение Николая II от престола
6. в период, о котором идёт речь в документе, Россия вела войну с Японией

Ответ: \_\_\_\_\_

Ответ: 3 (Керенский и Львов)

**23. Ознакомьтесь с текстом.**

«... В эти решительные дни в жизни России почли мы долгом совести облегчить народу нашему тесное единение и сплочение всех сил народных для скорейшего достижения победы и в согласии с Государственной Думою, признали мы за благо отречься от Престола Государства Российского и сложить с себя верховную власть. Не желая расстаться с любимым сыном нашим, мы передаем наследие наше брату нашему Великому Князю Михаилу Александровичу и благословляем Его на вступление на Престол Государства Российского. Заповедуем Брату нашему править делами государственными в полном и ненарушимом единении с представителями народа в законодательных учреждениях, на тех началах, кои будут ими установлены, принеся в том ненарушимую присягу. ... Да поможет Господь Бог России»

1. Назовите документ и дату его публикации?
2. Кто являлся автором документа?

Ответ: \_\_\_\_\_

Ответ: Манифест об отречении 2-го марта 15 час. мин. 1917 г. император Николай

II

**24. Напишите название международного союза, пропущенное в тексте.**

«В конце августа 1907 г. в Петербурге министром иностранных дел России А. П. Извольским и британским послом А. Никольсоном были подписаны три соглашения об Иране, о Тибете и об Афганистане. Если тибетский вопрос оказался

сравнительно легким, то проблемы Ирана и Афганистана в англо-русских отношениях оказались запутанными и спорными. Англичане долгое время оставались неуступчивыми, и дело продвигалось медленно. В Иране позиции русских значительно укреплялись. Весь Иран был поделен на три зоны русскую, нейтральную (между русской и английской) и английскую. Британская зона прикрывала подходы от Ирана к афганской границе. Стороны обязывались не вмешиваться в чужие сферы влияния, а в пределах своей зоны получали возможность финансового контроля за деятельностью иранского правительства. Нейтральная зона становилась полем конкурентной борьбы России и Англии. Англо-русские соглашения стали одним из этапов, в ходе которых сложилась .....».

Ответ: \_\_\_\_\_

Ответ: Антанта

**25. Данный плакат времён Гражданской войны призывал:**

1. Не поддаваться панике
2. Записываться добровольцем в РККА
3. Сдать продразверстку
4. Идти на завод



Ответ \_\_\_\_\_

Ответ: записываться добровольцем в РККА

"Ты записался добровольцем?" - Один из самых популярных плакатов Дмитрия Моора, властно призывавший встать на защиту завоеваний Республики. Создан в конце июня 1920 г., за одну ночь.

**26. Рассмотрите иллюстрацию и схему. Выполните задания.**



1. Укажите название города, обозначенного на схеме цифрой «2», в районе которого произошло соединение войск двух фронтов Красной армии.

Ответ: \_\_\_\_\_

2. Укажите название периода в ходе войны, начало которому положили события, обозначенные на схеме.

Ответ: \_\_\_\_\_

3. Какие суждения, относящиеся к событиям, обозначенным на схеме, являются верными? Выберите три суждения из шести предложенных. Запишите в таблицу цифры, под которыми они указаны.

- 1) На схеме обозначены боевые действия до конца 1943 г.
- 2) События, обозначенные на схеме, явились первым наступлением Красной армии в ходе Великой Отечественной войны.
- 3) На схеме обозначены боевые действия Красной армии в ходе операции «Уран».
- 4) Участником событий, обозначенных на схеме, являлся К. К. Рокоссовский.
- 5) В кольце окружения, обозначенном на схеме, оказалось более 2 млн немецких солдат.
- 6) События, обозначенные на схеме стрелками, начались в ноябре 1942 г.

Ответ: \_\_\_\_\_

Ответ:

1. Сталинград
2. Калач-на-Дону

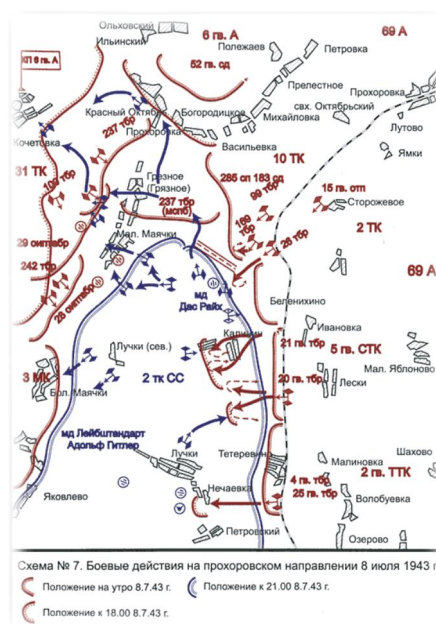
- 3.1) На схеме обозначены боевые действия до конца 1943 г. (НЕТ, к концу 1943г мы уже освободили Харьков, Киев и Днепропетровск)
- 2) События, обозначенные на схеме, явились первым наступлением Красной армии в ходе Великой Отечественной войны. (НЕТ, первое наступление было раньше еще в 1941г)
- 3) На схеме обозначены боевые действия Красной армии в ходе операции «Уран».
- 4) Участником событий, обозначенных на схеме, являлся К. К. Рокоссовский. (ДА, он командовал Донским фронтом)
- 5) В кольце окружения, обозначенном на схеме, оказалось более 2 млн немецких солдат. (НЕТ, окружили всего 300 тыс)
- 6) События, обозначенные на схеме стрелками, начались в ноябре 1942 г. (ДА, наше наступление началось 19 ноября)

Ответ: 346

## 27. Рассмотрите схему и ознакомьтесь с фрагментами исторических документов. Выполните задания.

Из журнала боевых действий 5-ой гвардейской армии от 12 июля «... В 8:30 войска Армии перешли в решительное наступление на всем фронте в общем направлении Бол. Маячки, нанося основной удар левым флангом...»

Из воспоминаний участника боя, рядового Е.И. Филатова: «Танки шли лавиной. Сколько их было, не считали. Машины двигались по полю зигзагами, меняя направление. Чтобы сбить с толку наших артиллеристов, помешать им прицелиться... Рвутся бомбы... Такой грохот стоял, что кровь текла из ушей»



1. Назовите самое масштабное танковое сражение Великой Отечественной Войны?
2. Назовите главнокомандующих танковых соединений участников сражения?

Ответ: \_\_\_\_\_

Ответ: Переломный момент в Курской битве- Танковое сражение под Прохоровкой (станция Прохоровка) Непосредственное командование танковыми соединениями во время сражения осуществляли генерал-лейтенант Павел Ротмистров с советской стороны и группенфюрер СС Пауль Хауссер - с немецкой.

**28. Рассмотрите портреты известных исторических личностей. Напишите фамилию и каким фронтом командовал во время Великой отечественной войне 1941-1945гг.**



1. \_\_\_\_\_
2. \_\_\_\_\_
3. \_\_\_\_\_
4. \_\_\_\_\_

Ответы:





1. Конеv Иван Степанович (1897 - 1973)  
Командовал войсками Западного, Калининского, Северо-Западного, Степного, 2-го и 1-го Украинских фронтов.



2. Жуков Георгий Константинович (1896 - 1974) командовал войсками Резервного, Ленинградского, Западного фронтов. В 1942 году был назначен заместителем Верховного Главнокомандующего и 1-м заместителем Наркома обороны. 1-м Украинским и 1-м Белорусским фронтами.



3. Толбухин Федор Иванович  
4(16).[6.]1894–17.10.1949 Во время Великой Отечественной войны командовал штабом фронта, также осуществлял командование армией и непосредственно фронтом. Хорошо проявил себя при Сталинградской битве, осуществляя командование 57-й армией. Весной 1943 года Толбухин возглавил Южный фронт, а в период с мая 1944 года до окончания войны возглавлял 4-й Украинский фронт.



Василевский Александр Михайлович (1895 - 1977)  
командующий 3-м Белорусским фронтом и член Ставки ВГК.

## 29. Рассмотрите иллюстрацию.

*Назовите героев Великой Отечественной войны, которые во время битвы за Берлина, водрузили знамя Красной армии на крыше рейхстага?*

Ответ: \_\_\_\_\_

Ответ: Двумя отметившимися героями были М. А. Егоров и М. В. Кантария (разведчики полка). Именно они были теми, кто воздвиг флаг над Рейхстагом.



### **30. Прочитайте документы, сделайте вывод и напишите о ком идет речь.**

#### **Первое задание**

Все документы и рапорта в части писались со слов командиров и комсомольцев штатным писарем в тетради в клеточку:

«Вам надлежит воспрепятствовать подвозу боеприпасов, горючего, продовольствия и живой силы путем взрыва и поджога мостов, минирования дорог, устройства засад в районе дороги Шаховская - Князьи Горы... Задача считается выполненной: а) уничтожение 5 - 7 автомашин и мотоциклов; б) уничтожить 2 - 3 моста; в) сжечь 1 - 2 склада с горючим и боеприпасами; г) уничтожить 15 - 20 офицеров».

#### **Из доклада бойца диверсионной группы Зоричевой:**

«Несколько дней двигались вперед, разбрасывая колючки, ребята ходили минировать большак. Продукты подходили к концу, остатки сухарей стали горькими от неосторожного обращения с толом. В группе появились больные (... простыла, у нее заболели уши), и командир принял решение возвращаться. Но ....заявила, что, несмотря ни на что, мы должны были еще лучше выполнить задание. На базу вернулись 11 ноября».

#### **Из рапорта Бориса Крайнова (боец группы Проворова):**

«28 ноября дошли до Петрищева и зажгли 4 дома, но на место сбора Клубков и .... не явились. Ждал до утра».

*Ответ:* \_\_\_\_\_

Ответ: речь идет о диверсии и подвиге Зое Космодемьянской.

## Список используемой литературы.

1. «Повесть временных лет» Нестор.
2. Никсоновская летопись.
3. Поучения Владимира Мономаха Перевод Д. С. Лихачева
4. Князь Димитрий Михайлович Пожарский. / Ярославский литературный сборник на 1850 г. Ярославль. 1851.
5. Житие преподобного Иринарха, затворника Ростовского. /Памятники Отечества. 1990, №2.
6. В.В.ПОХЛЕБКИН Татары и Русь. Отношений Руси с татарскими государствами в XIII—XVI вв. 1238—1598 гг. Справочник. М.: «МЕЖДУНАРОДНЫЕ ОТНОШЕНИЯ»2000. ISBN 5-7133-1008-6.
7. Монастыри, основанные Патриархом Никоном Автор Павел Герасимов
8. Февральская революция 1917 года. Сборник документов и материалов. М., 1996.
9. Источник: ЕГЭ по истории
10. Источники: Демоверсия 2014 г. по истории ЕГЭ Пономарев М. В. ЕГЭ История России : тематические тренировочные задания / М. В. Пономарев, В. А. Клоков. М.: Эксмо, с. (ЕГЭ. Тематические тренировочные задания)

## Интернет источник:

<http://www.gradrostov.ru/svfeodor.html> ( картинка святителя Федора)

<http://basil-3.livejournal.com/210503.html>

<http://iamruss.ru/route-scheme-from-the-vikings-to-the-greeks/> (схема)

<http://www.moi-jaroslavl.ru/letopis-jar.html> (картинка Ярослава Мудрого)

[https://yandex.ru/images/search?img\\_url=http%3A%2F%2Fwww.zdravrussia.ru%2Fimages%2Ffoto\\_isk%2Ffool%2F11757.jpg&text=%D0%BB%D1%8E%D0%B1%D0%B5%D1%87%D1%81%D0%BA%D0%B8%D0%B9%20%D1%81%D1%8A%D0%B5%D0%B7%D0%B4&noreask=1&pos=2&lr=213&rpt=simage](https://yandex.ru/images/search?img_url=http%3A%2F%2Fwww.zdravrussia.ru%2Fimages%2Ffoto_isk%2Ffool%2F11757.jpg&text=%D0%BB%D1%8E%D0%B1%D0%B5%D1%87%D1%81%D0%BA%D0%B8%D0%B9%20%D1%81%D1%8A%D0%B5%D0%B7%D0%B4&noreask=1&pos=2&lr=213&rpt=simage) (картинка Любечиский съезд)

<http://www.putidorogi-nn.ru/100-chudes-sveta/283-sobor-vasiliya-blazhennogo> (картинка

Храма)

[http://culturolog.ru/index.php?id=83&option=com\\_content&task=view](http://culturolog.ru/index.php?id=83&option=com_content&task=view) (Новый Иерусалимский храм )